




„СВЕТОСАВСКЕ МОЗГАЛИЦЕ“ 2008

Задаци за 1. разред


Задаци који носе 3 бода






1. Колико је скокова направио зец?



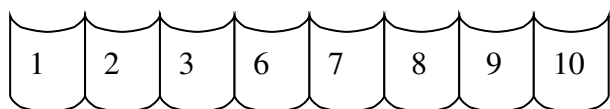
- а) 4 б) 3 в) 2 г) 1 д) 5

2. Нацртан је низ цветова. Како ће изгледати следећи цвет у овом низу?




- а)  б)  в)  г)  д) 

3. Овај низ треба да се састоји од 10 књига, али неке недостају. Колико књига недостаје?



- а) 4 б) 3 в) 2 г) 1 д) 0

4. Има ли по три балона за свако дете?



- а) има б) недостају 3 балона в) недостаје 1 балон г) недостају 5 балона
д) недостају 2 балона

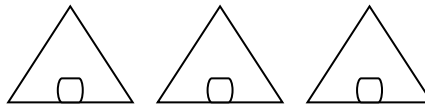
Задаци који носе 4 бода

5. Врпчић Цвеле покључао је 4 зрна кукуруза и 6 зрна пшенице? Колико је зрна Цвеле покључао?
- а) 4 б) 10 в) 2 г) 6 д) 5
6. Колико је ушију у три миша?
- а) 6 б) 4 в) 9 г) 8 д) 5
7. На грани је било 9 птица. Четири су одлетеле. Колико је остало?
- а) 3 б) 4 в) 5 г) 6 д) 7
8. Кад пева један петао пробуди 5 људи. Колико људи пробуде два петла из истог кокошарника?
- а) 5 б) 2 в) 6 г) 10 д) 1

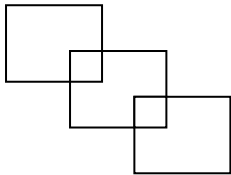
Задаци који носе 5 бодова

9. У кутији је 10 куглица: 4 су плаве, 2 зелене, а остало су жуте. Колико има жutih куглица?
- а) 7 б) 5 в) 6 г) 4 д) 3

10. Поред мора
три шатора
сваки по три ђака прима.
Колико ту ђака има?



- а) 3 б) 4 в) 6 г) 8 д) 9
11. Колико има квадрата на слици?



- а) 3 б) 4 в) 5 г) 6 д) 2
12. Бака има 2 гуске, 1 патку и 2 ћурке. Колико је то укупно ногу?
- а) 5 б) 6 в) 8 г) 9 д) 10